

سنڌي

مارڪون 03

ٿاسڪ 1

هيٺ ڏنل پيراگراف غور سان پڙهو ۽ صحيح جواب تي ٽڪ (✓) جو نشان لڳايو.

خيرتون اهي ڪن، جيڪي ڪجين تي چڙهن! (پهاڪو)

هڪڙو همراه ڪجين جي باغ ۾ ويو. اتي هڪ ڊگهي ڪجيءَ ۾ گهٽا ۽ سنا ڏوڪا/ڏوڏا نظر آيس. نه ڪيائين هر نه نمر، يڪدم مٿي چڙهي ويو. هڪڙو سٺو چڱو چاچي منجهائينس سنا سنا ڏوڪا/ڏوڏا چوندي کائي ڍو ڪيائين. چڙهڻ وقت پيٽ خالي هئس ۽ جسم هلڪو هئس. تنهن ڪري نوريٽي وانگر مٿي چڙهي ويو. جڏهن ڏوڪا/ڏوڏا کائي پيٽ پريائين ته پاڻ کي ڳورو محسوس ڪيائين ۽ هوش به آيس ته ويهه پنجويهه هٿ مٿي سنهيءَ ڪانيءَ تي چڙهيو بيٺو آهيان. لهڻ جي ڪيائين ته ڊجي ويو. لهي نه پئي سگهيو. اتي يڪدم الله ياد پيس ۽ وٺي سڏ ڪيائين، ”الله سائين! ڪجيءَ تان سلامت لهان ته تنهنجي نالي تي ڊڳي ڪهندس!“

تئين حصي پنڌ تي پهتو ته چوڻ لڳو، ”هتان خير سلامتيءَ سان هيٺ لٿس ته ڪڪڙ ڪهي، خير ڏيندس!“ جڏهن انين حصي تي پهتو ته کڻي ڪيڙيءَ ۾ ٽپو ڏنائين ۽ گوڏن ڀرجي ڪريو. چوڻ لڳو، ”خيرتون اهي ڪن، جيڪي ڪجيءَ تي چڙهن!“ ڪپڙا چنڊيندي ۽ ڪجيءَ ڏانهن نهاريندي چيائين، مان هاڻي چڙهان نه خيرات ئي ڪيان.“

1. باغ ۾ همراه چاچي وٺ تي چڙهيو؟

الف. ناريل ب. نمر ج. ڪجي د. تالهي

2. همراه جو وٺ تي چڙهڻ وقت پيٽ خالي هئو ته ڪنهن وانگر وٺ تي چڙهي ويو؟

الف. نوريٽي ب. پولڙي ج. ڪڪڙ د. ڀڪر

3. کجیء تان صحیح سلامت هیٺ لهڻ لاءِ همراھ چيو، ”الله سائين! کجیء تان سلامت لھان تہ تنھنجي نالي

تي _____ کھندس!“

الف. مينهن ب. ڍڳي ج. بکري د. ريڙ

مارڪون 03

ٽاسڪ 2

هيٺ ڏنل جملن ۾ هڪ لفظ جي هيٺيان ليکَ ڏنل آهي. ڏنل جوابن مان ان لفظ جي ضد تي تڪ (✓) جو

نشان لڳايو

1. هر ڪنهن سان نرمي سان پيش اچڻ گهرجي.

الف. ڪاوڙ ب. سختي ج. پيار د. تڪليف

2. هي اسان جي زمين آهي.

الف. مٽي ب. ڌرتي ج. آسمان د. خلا

3. انٽرنيٽ جي اچڻ سان ماڻهن ۾ خط پتَ لڪڻ جو رواج ختم ٿي ويو آهي.

الف. پڙهڻ ب. پڌڻ ج. سمجھائڻ د. سمجھڻ

مارڪون 03

ٽاسڪ 3

ڪنهن به خوشي، غم، حيرت، افسوس جي معنيٰ ڏيکاريندڙ لفظ کي حرف ڀڃڻو آهي. هيٺين جملن مان حرف ڀڃڻ وارن جملن تي ٽڪ (✓) جو نشان لڳايو.

1. رات ڏاڍو مينهن ونهيو.
2. آئي! هو ڏس ڪيڏي گپ ٿي وئي آهي.
3. واها! سميرا ته اڄ ڏاڍو سٺو جوڙو پاتو آهي.
4. منشا الائي چوڻي رهي.
5. هاءِ هاءِ! منو شربت پي دل باغ بهار ٿي وئي.

مارڪون 03

ٽاسڪ 4

هيٺين واحد لفظن مان جمع ٺاهيو.

1. بوتل _____
2. رات _____
3. پينڊي _____

مارڪون 03

ٽاسڪ 5

هيٺين هاڪاري جملن کي ناڪاري جملن ۾ بدلايو.

1. عمران اڄ پنهنجي سوٽ سان گڏجي سڪرويو آهي.

2. اسان اڄ قربانيءَ لاءِ هڪ بڪر آندو آهي.

3. شاهزيب سالياني امتحان ۾ پهريون نمبر آيو آهي.

مارڪون 05

ٽاسڪ 7

هيٺ ڏنل ڪهاڻي بي ترتيب آهي. ان کي صحيح ترتيب ڏئي لکو.

1. احمد کي پنهنجي ماءُ صبح جو تيار ڪري، ناشتو ڪرائي اسڪول لاءِ موڪليو.
2. اهڙي طريقي سان احمد کي به ٽي ڏينهن گذري ويا هو اسڪول لاءِ گهران نڪرندو هو پر عدنان سان راند ڪرڻ بيهي رهندو هو.
3. رستي تي احمد کي عدنان مليو، جنهن چيس اچ ته ڪيڏون. احمد هن سان گڏ ڪيڏڻ لڳو ۽ اسڪول نه ويو.
4. اهو ٻڌي احمد ڏاڍو شرمسار ٿيو. هن پنهنجي والد/پيءُ کان معافي ورتي ۽ آئنده اسڪول کان نه گسائڻ جو وچن ڪيو.
5. آخر احمد جي والد/پيءُ هنن کي اسڪول جي ٽائيم تي راند ڪندي ڏسي ورتو. شام جو هن احمد کي پيار سان سمجهائيندي چيو ته پٽ پنهنجو قيمتي وقت برباد نه ڪر. اسڪول جي ٽائيم تي اسڪول وڃ ۽ شام جو پيلي ڪيڏ.

English

Task 8**6 Marks**

Tick (✓) the correct answers.

i) She _____ have lots of coffee when she was studying.

- A. going to
- B. used to
- C. must
- D. should

ii) Which of the following is the **consonant**?

- A. a
- B. e
- C. m
- D. o

iii) Identify the sentence of **present simple tense**.

- A. She always forgets her mobile.
- B. She has forgotten her mobile.
- C. She will forget her mobile.
- D. She forgot her mobile.

iv) Mark the question tag in the given statement.

That's a nice juicy bundle of grass, isn't it?

- A. That's
- B. Isn't it?
- C. Grass,
- D. Juicy

v) A person who sells in a shop is a

- A. cook.
- B. driver.
- C. teacher.
- D. salesman.

vi) The **opposite** of 'increase' is

- A. rise.
- B. decrease.
- C. growth.
- D. progress.

Task 9

3 Marks

Convert the given sentences into **passive voice** and write in the given spaces.

Example: My mother cooks food for us.

Answer: Food is cooked by my mother.

i) A child broke the toys.

ii) Miss Fareeda teaches us English.

iii) Some people grow strawberries in Khairpur.

Task 10**6 Marks**

Read the given poem and answer the following questions.

Try Again

'Tis is a lesson you should heed,
Try again;
If at first you don't succeed,
Try again.
If you find your task is hard,
Try again;
Time will bring you your reward,
Try again;
All the other folks can do,
Why, with patience, may not you?
Only keep this rule in view,
Try again.

W.E. Hickson

Tick (✓) the correct answers.

i) The **rhyming word** of 'heed' is

- A. hard.
- B. creed.
- C. solid.
- D. find.

ii) Which of the following word has **similar meaning** of 'reward'?

- A. prize
- B. work
- C. punish
- D. penalty

Write the correct answers.

iii) Write the name of the poet?

iv) According to the poet, which thing is important for success?

v) Write the **superlative degree** of 'hard'.

vi) Convert the given sentence into **present indefinite tense** and write in the given space.

Time will bring you your reward.

Mathematics

Task 13

15 Marks

Tick (✓) the correct answers.

صحيح جوابن تي ٽڪ (✓) جون نشان لڳايو.

i) If $X = \{a, b\}$ and $Y = \{c, d\}$, then $X \cap Y$ is

جيڪڏهن $X = \{a, b\}$ ۽ $Y = \{c, d\}$ ته $X \cap Y$ آهي

- A. \emptyset
- B. $\{a, b\}$
- C. $\{c, d\}$
- D. $\{a, b, c, d\}$

ii) $3x^2 - x^2 = \underline{\hspace{2cm}}$.

- A. $2x$
- B. $2x^2$
- C. $2x^3$
- D. $2x^4$

iii) If the profit rate for a trade is 2%. The profit on an investment of Rs 80,000 is

جيڪڏهن هڪ واپار تي منافع جي شرح 2% آهي ته 80000 جي لاڳت تي منافع ٿيندو

- A. Rs 1,200
- B. Rs 1,600
- C. Rs 2,000
- D. Rs 2,400

1200 روپيا

1600 روپيا

2000 روپيا

2400 روپيا

iv) If two angles of a triangle are 30° and 45° , its third angle is

جيڪڏهن هڪ ٽڪنڊي جون ٻه ڪنڊون 30° ۽ 45° آهن ته ان جي ٽين ڪنڊ ٿيندي

- A. 100°
- B. 105°
- C. 110°
- D. 115°

v) If $a = -14$ and $b = -2$, then $\frac{a}{b}$ is

جيڪڏهن $a = -14$ ۽ $b = -2$ ته $\frac{a}{b}$ آهي

- A. -7
- B. -8
- C. 7
- D. 8

vi) If $\frac{x}{3} = 6$, the value of x is

جيڪڏهن $\frac{x}{3} = 6$ ته x جو ملهه ٿيندو

- A. 15
- B. 18
- C. 21
- D. 24

vii) Which of the following is a set of Odd numbers?

هيٺ ڏنل سيٽن مان اڪي انگن وارو سيٽ ڪهڙو آهي؟

- A. $\{0, 1, 2, \dots\}$
- B. $\{1, 2, 3, \dots\}$
- C. $\{2, 4, 6, \dots\}$
- D. $\{1, 3, 5, \dots\}$

viii) If we divide Rs 700 between Ali and Basit with the ratio of 3 : 4, the amount that Basit gets will be

جيڪڏهن اسان 700 روپيا علي ۽ باسط ۾ 3:4 جي نسبت سان ورهائون ته ان مان باسط کي ملندڙ رقم ٿيندي

A. Rs 200

200 روپيا

B. Rs 300

300 روپيا

C. Rs 400

400 روپيا

D. Rs 500

500 روپيا

ix) $\frac{8}{25}$ as percentage is

$\frac{8}{25}$ في سيڪڙي ۾ ٿيندو

A. 22%

B. 32%

C. 42%

D. 52%

x) If the combine weight of 3 balls is 120 grams, then the weight of 5 balls would be

جيڪڏهن 3 ڪينهوڙن / ڏڙهن / بالن جو گڏيل وزن 120 گرام آهي ته 5 ڪينهوڙن / ڏڙهن / بالن جو گڏيل وزن ٿيندو



A. 180 grams

180 گرام

B. 200 grams

200 گرام

C. 220 grams

220 گرام

D. 240 grams

240 گرام

xi) If the radius of a circle is 7 centimetres ($\pi \cong \frac{22}{7}$), its area will be

جيڪڏهن هڪ دائري جو ٺيهر قطر 7 سينٽي ميٽر آهي ($\pi \cong \frac{22}{7}$) ته ان جي ايراضي ٿيندي

A. 144 square centimetres

144 چورس سينٽي ميٽر

B. 154 square centimetres

154 چورس سينٽي ميٽر

C. 164 square centimetres

164 چورس سينٽي ميٽر

D. 174 square centimetres

174 چورس سينٽي ميٽر

xii) If $F = \{5, 6, 7\}$ and $G = \{6, 7\}$, then $F - G$ is

جیکڈهن $F - G$ ته $G = \{6, 7\}$ ۽ $F = \{5, 6, 7\}$ آهي

- A. $\{5\}$
- B. $\{5, 6\}$
- C. $\{6, 7\}$
- D. $\{5, 6, 7\}$

xiii) Fraction of the decimal number 4.5 is

ڈهائي اٲور 4.5 جو عام اٲور ٲيندو

- A. $\frac{3}{2}$
- B. $\frac{5}{2}$
- C. $\frac{7}{2}$
- D. $\frac{9}{2}$

xiv) $-5 \times (6 - 9) = \underline{\hspace{2cm}}$.

- A. 10
- B. 15
- C. -10
- D. -15

xv) $\frac{3}{4} \div \frac{-6}{2} = \underline{\hspace{2cm}}$.

- A. $-\frac{1}{2}$
- B. $-\frac{1}{4}$
- C. $-\frac{3}{2}$
- D. $-\frac{3}{4}$

Task 14**2 Marks**

Find the square root of $\sqrt{0.36}$. Show steps.

$\sqrt{0.36}$ جو بیومول معلوم کریو۔ مرحلا ڈیکاریو۔

Ans. _____

Task 15**2 Marks**

If 15% of Guava is 45, find the total number of Guava? Show steps.

جیکڈهن 15% زيتونن جو مخصوص تعداد 45 آهي، ته انهن زيتونن جو کل تعداد معلوم کریو۔

مرحلا ڈیکاریو۔

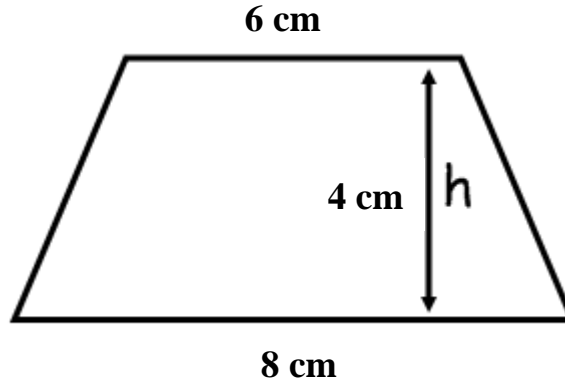


Ans. _____

Task 16**3 Marks**

A trapezium has a height of 4 centimetres, and the length of its two parallel sides is 8 and 6 centimetres respectively. Find the area of trapezium. Show steps.

هڪ ٻه پاسا پور وچوت چوڪنڊي جي اوچائي 4 سينٽي ميٽر آهي ۽ ٻن متوازي پاسن جي ڊيگهه ترتيبوار 8 ۽ 6 سينٽي ميٽر آهي. ته ٻه پاسا پور وچوت چوڪنڊي جي ايراضي معلوم ڪريو. مرحلا ڏيکارو.



Ans. _____

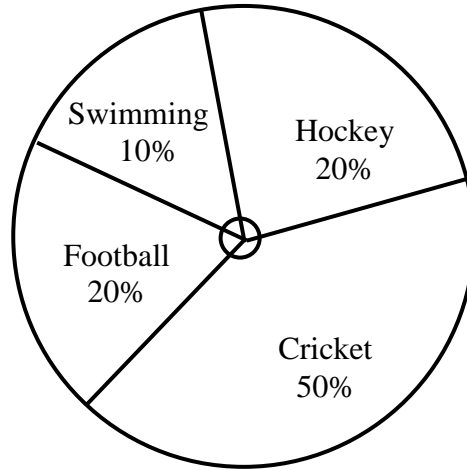
Task 17**3 Marks**

Consider the following pie chart which is showing percentage of games liked by the pupils of a school. Answer the following questions.

Cricket = 50%, Hockey = 20%, Football = 20%, Swimming = 10%.

هيٺ ڏنل پاءِ چارٽ تي غور ڪريو، جنهن ۾ هڪ اسڪول ۾ پڙهندڙ شاگردن جي مختلف راندين ۾ دلچسپي ڏيکاري وئي آهي. هيٺ ڏنل سوالن جا جواب لکو.

ڪرڪيٽ = 50% ، هاڪي = 20% ، فوٽ بال = 20% ، تيراڪي / پاڻي ۾ ترڻ = 10%



i) What is the percentage of cricket liked by the pupils of a school?

اسڪول ۾ ڪرڪيٽ کي پسند ڪندڙ ٻارن جو سيڪڙو ڇا آهي؟

Ans. _____

ii) Find the angle representing cricket?

ڪرڪيٽ کي ظاهر ڪندڙ حصي جي ڪنڊ معلوم ڪريو.

Ans. _____

iii) Find the angle representing football?

فوٽ بال کي ظاهر ڪندڙ حصي جي ڪنڊ معلوم ڪريو.

Ans. _____

Rough Work

Science

Task 18

10 Marks

Tick (✓) the correct answers.

صحيح جوابن تي تڪ (✓) جو نشان لڳايو.

i) Which of the following is present in an animal cell?

هيٺين مان جانورن جي سيل ۾ ڇا موجود هوندو آهي؟

A	B	C	D
Cell wall	Centriole	Chloroplast	A large vacuole
سيل وال	سينٽريول	ڪلوروپلاسٽ	هڪ وڏو ويڪيول

ii) The function of the vascular tissues in plants cell is to

ٻوٽن جي سيل ۾ موجود واسڪيولر تشو جو ڪم آهي

<p>A</p> <p>transport pollen grain.</p> <p>پولن گرين جي آمدورفت ڪرڻ.</p>	<p>B</p> <p>manufacture pollen grain.</p> <p>پولن گرين تيار ڪرڻ.</p>
<p>C</p> <p>transport food and water.</p> <p>پاڻي ۽ غذا جي آمدورفت ڪرڻ.</p>	<p>D</p> <p>manufacture food and water.</p> <p>پاڻي ۽ غذا تيار ڪرڻ.</p>

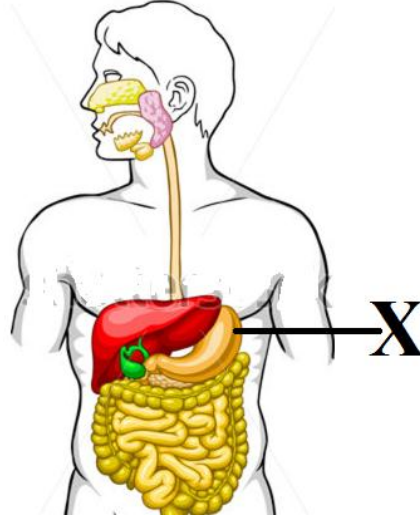
iii) Arthritis is caused due to the deficiency of

آرٿرائٽس جنهن جي ڪمي جي ڪري ٿئي ٿي اها آهي

<p>A</p> <p>fats.</p> <p>چرٻي</p>	<p>B</p> <p>fiber.</p> <p>فائبر</p>	<p>C</p> <p>water.</p> <p>پاڻي</p>	<p>D</p> <p>protein.</p> <p>پروٽين</p>
-----------------------------------	-------------------------------------	------------------------------------	--

iv) Following diagram shows the human digestive system. Which type of acid is present in part X?

هيٺ ڏنل تصوير انساني هاضمي جي سرشتي جي آهي. حصي X ۾ ڪهڙي قسم جو تيزاب موجود هوندو آهي؟



A	B	C	D
Hydrochloric acid	Sulphuric acid	Nitric acid	Citric acid
هائڊروڪلورڪ ائسڊ	سلفيورڪ ائسڊ	نائٽرڪ ائسڊ	سٽرڪ ائسڊ

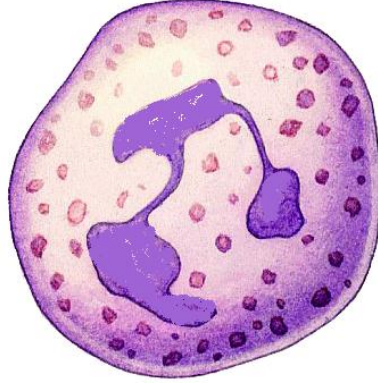
v) Plants breathe through very fine pores are called

بوتن ۾ تمام ننڍڙن سوراخن جي مدد سان ساهه کڻندا آهن اهي سوراخ چورائيندا آهن

A	B	C	D
cuticle.	lenticle.	stomata.	epidermis.
ڪيوٽيڪل.	لينٽيڪل.	اسٽوميٽا.	اِپيڊرمل.

vi) The given diagram is of a white blood cell. Its function is to

هيٺ ڏنل تصوير سيل جي اڇن جرن جي آهي. هنن جو ڪم آهي



- | | | | |
|--------------|---------------|-----------------|----------------|
| A | B | C | D |
| kill germs. | carry oxygen. | carry nitrogen. | stop bleeding. |
| جراثيم مارڻ. | آڪسيجن کڻڻ. | نائٽروجن کڻڻ. | رت کي روڪڻ. |

vii) Which of the following is a male reproductive part of a flower?

هيٺين مان گل ۾ موجود نر توليد وارو عضو ڪهڙو آهي؟

- | | | | |
|-------|-------|--------|--------|
| A | B | C | D |
| Petal | Sepal | Carpel | Stamen |
| پيتل | سيپل | ڪارپل | اسٽيمن |

viii) Following diagram shows the process of

هيٺ ڏنل تصوير جنهن عمل کي ظاهر ڪري ٿي اهو آهي



- | | | | |
|--------------|----------|--------------------|-------------|
| A | B | C | D |
| boiling. | melting. | solidifying. | condensing. |
| اڀرڻ / تهڪڻ. | رجڻ. | نهر و بڻجڻ جو عمل. | جمائڻ. |

ix) The force that resists the movement of any object is called

اهو زور جيڪو ڪنهن جسم جي حرڪت روڪي ان زور کي چئبو آهي

A	B	C	D
work.	tension.	friction.	gravity.
ڪم.	ٽينشن.	گان.	ڪششِ ثقل.

x) Following diagram is of a thermometer. It is used for measuring

هيٺ ڏنل تصوير ٿرموميٽر جي آهي. اهو استعمال ٿيندو آهي پيمائش لاءِ

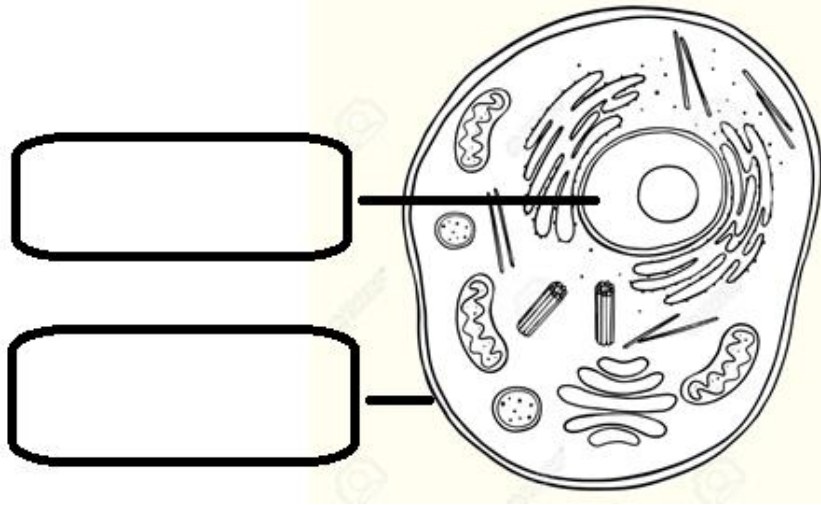


A	B	C	D
mass.	length.	distance.	temperature.
مايي جي.	ڊيگهه جي.	مفاصلي جي.	گرمي پد جي.

Task 19**2 Marks**

Write the name of the following parts of an animal cell.

هيٺ ڏنل جانورن جي سيل ۾ موجود حصن جا نالا لکو.

**Task 20****2 Marks**

Explain the role of red blood cells in the human respiratory system.

انساني ساهه کٽڻ واري سرشتي ۾ رت جي ڳاڙهن جرن جي ڪردار جي وضاحت ڪريو.

Ans. _____

Task 21**2 Marks**

Describe the importance of skeletal system in man.

انساني ڍانچي واري سرشتي جي اهميت ٻڌايو.

Ans. _____

Task 22**2 Marks**

Write the atomic number and mass number of the following atom.

هيٺ ڏنل ائٽم جو ائٽامڪ نمبر ۽ مائي جو نمبر لکو.

Atom ائٽم	Atomic Number ائٽامڪ نمبر	Mass Number مائيونمبر
Helium هيليئم		

Task 23**2 Marks**

Explain the following types of force.

هيٺ ڏنل زور جا قسم لکو.

i) The force of gravity

ڪشش ثقل وارو زور

ii) Tension

ٽينشن

Task 25**3 Marks**

Write **any three** problems caused by the deficiency of vitamin.

وتامن جي گهٽتائي جي ڪري ٿيندڙ ڪي به ٽي مسئلا لکو.

i) _____

ii) _____

iii) _____

Task 26**2 Marks**

Explain following types of asexual reproduction in plants.

ٻوٽن ۾ هيٺ ڏنل غير جنسي پيدايش جي قسمن جي وضاحت ڪريو.

i) Through cutting

ڪٽنگ جي ذريعي

ii) Through grafting

گرافٽنگ جي ذريعي

End of Paper